

פיילוט מבדק סוף שנה - במתמטיקה, שכבה ב'

לרשותכם 90 דקות.

מותר שימוש באמצעי המחשה.

בהצלחה

1. כתבו בספרות :

תשעים ושמונה

2. כתבו במילים :

89

3. כתבו מספר שיש בו 7 יחידות ו-8 עשרות

4. ליהונתן היו 18 מדבקות.

יהונתן נתן לחברו 5 מדבקות, ולאחותו 2 מדבקות.

כמה מדבקות נשארו ליהונתן?

תרגיל

תשובה

פתרו :

$$27 + 6 = \underline{\hspace{2cm}} \quad .5$$

$$35 - 15 = \underline{\hspace{2cm}} \quad .6$$

$$58 + 32 = \quad (8) \quad 71 - 39 = \quad (7)$$

השלימו :

$$3 + 3 + \underline{\hspace{1cm}} > 10 \quad .9$$

$$20 - \underline{\hspace{2cm}} = 5 \quad .10$$

11. כמה עולות 6 מחברות, אם מחברת אחת עולה 3 שקלים ?

תרגיל _____

תשובה _____

פְּתוּרוֹ :

$$3 \times 6 = \underline{\hspace{2cm}} \quad .12$$

$$0 \times 9 = \underline{\hspace{2cm}} \quad .13$$

$$8 : 2 = \underline{\hspace{2cm}} \quad .14$$

$$7 \times 1 = \underline{\hspace{2cm}} \quad .15$$

.16 הקיפו את התרגיל המתאים ל- 5×3 .

$$3+5, \quad 3+3+3+3+3, \quad 5+5+3, \quad 5+3$$

.17 השלימו :

$$2 \times 3 < \underline{\hspace{1cm}} \times \underline{\hspace{1cm}}$$

.18 פְּתוּרוֹ :

$$2 \times \underline{\hspace{2cm}} = 2$$

פְּתוּרוֹ :

$$28 - 8 + 2 = \underline{\hspace{2cm}} \quad .19$$

$$2 \times (5 - 3) = \underline{\hspace{2cm}} \quad .20$$

21. אלון ורונית יצאו לקטוף פטריות .

אלון קטף _____ פטריות . ורונית קטפה 5 פטריות .

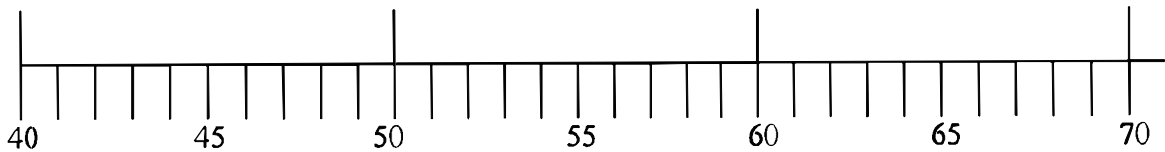
כמה פטריות יש לשניהם ביחד ?

תרגיל _____

תשובה _____

22. מתחזו קו מהמספר למקומו על ציר המספרים .

51 63 49



23. כתבו מספר קודם ומספר עוקב

_____ , 50 , _____

24. ענו על השאלות :

57 קרוב יותר ל- 50 או ל- 60 ? _____

32 קרוב יותר ל- 30 או ל- 40 ? _____

25. בַּחֲנוּת מְחִירוֹן לְ : אֲלָבוֹם , פְּדוּר וּסְפָר . הַסְפָּר עוֹלָה 10 שְׁקָלִים פְּחוּת מִן הָאֲלָבוֹם וְ-10 שְׁקָלִים יוֹתֵר מִהַפְּדוּר . מִתְחַזֵּקוּ בֵּין מוֹצֵר לְמַחִירוֹ .

25 שְׁקָלִים



35 שְׁקָלִים



15 שְׁקָלִים



26. נְתוּנִים הַמְסַפְּרִים :

5 , 10 , 15 , _____

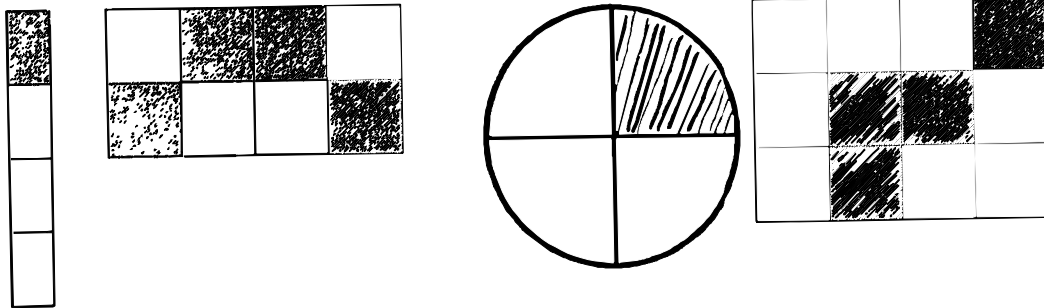
הוֹסִיפוּ מְסַפֵּר לֹא שְׂיִיד וְנִמְקוּ .

לֹא שְׂיִיד . הַנִּימוּק : _____

27. צְבָעוּ חֲצֵי מִהַפְּרָחִים .



28. הקיפו את הצורות שרבע מהן צבוע.



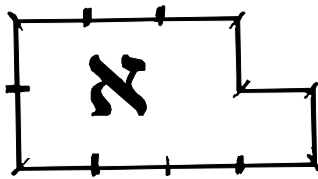
29. כתבו את הערך המספרי של המילה ילד _____

30. לפניכם שלוש מילים:

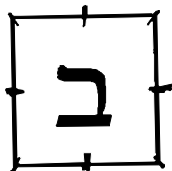
דלי , גדי , אָלי

הקיפו את המילה שערכה המספרי הוא הגדול ביותר .

השלימו :




31. היקף צורה א' _____ יחידות של



היקף צורה ב' _____ יחידות של

32.

שטח צורה א' _____
?חידות שטח של

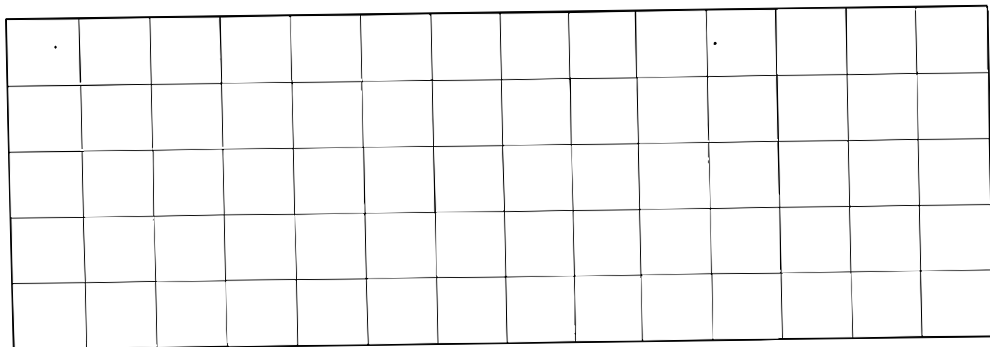


שטח צורה ב' _____
?חידות שטח של



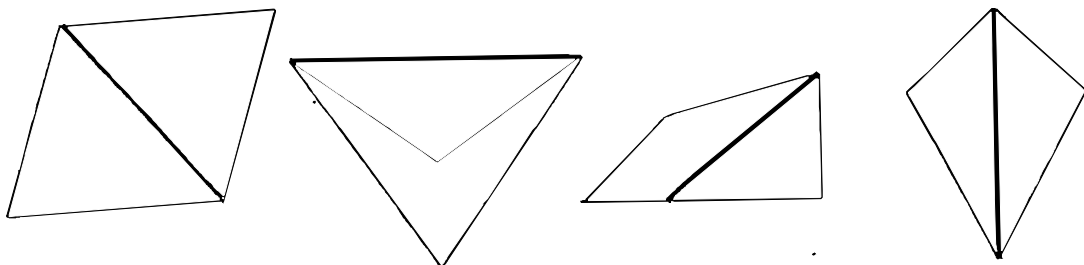
33.

שְׂרֵטָטוּ 2 צורות שונות ששטחן 6 ?חידות שטח של

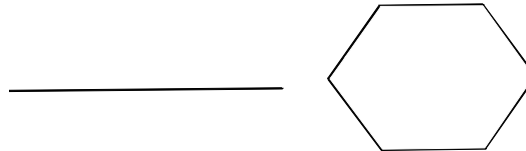



34.

הקוף את המצולע בו הקטע המודגש הוא לא אלקסון :




35. כתבו את שם הצורה:




36. השלימו כל משפט על פי השעה שהשעון מראה:



רון קם בשעה _____ בבוקר.

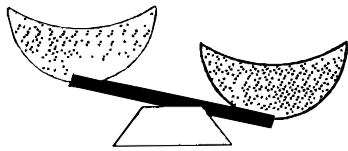


בשעה _____ יצא רון עם פיתתו להצגה.





בשעה _____ חזר רון הביתה.

37. כתבו שמות של שני חפצים על כפות המאזניים והשלימו :



ה _____ יותר קבד מה _____

38. הסתכלו במאזניים והשלימו :

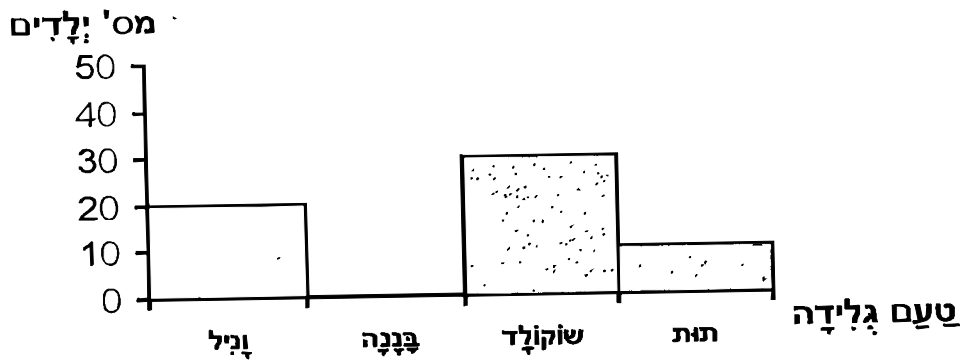


הדובי שוקל _____ גולות .

הדובי יותר _____ מהספר .

קבד / קל

תלמידי שִׁכְבָּה ב' עָרְכוּ סֶקֶר : מָהוּ טַעַם הַגְּלִידָה הַאֲהוּב בְּיוֹתֵר.
 תלמידי השִׁכְבָּה הֵצִיגוּ אֶת הַתּוֹצְאוֹת בְּדִיאָגְרָמָה .
 עֵינֵינוּ בְּדִיאָגְרָמָה וְעַנּוּ עַל הַשְּׁאֵלוֹת הַבָּאוֹת :



39. א. איזה טעם אהוב על הכי הרבה ילדים? _____

ב. כמה תלמידים אוהבים טעם וניל? _____

40. איזה טעם גלידה אף ילד משכבה ב' לא בחר? _____

כיצד רואים זאת בדיאגרמה? _____